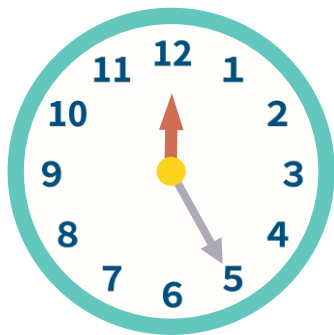


時間の計算④

イラストを見て時間を計算しましょう！

※5分単位で計算してください

①



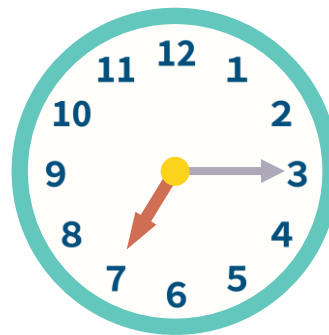
この時計は何時何分？

時	分
---	---

→30分前は

時	分
---	---

④



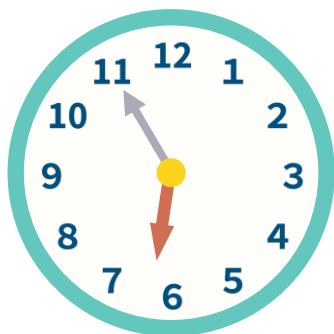
この時計は何時何分？

時	分
---	---

→20分前は

時	分
---	---

②




この時計は何時何分？

時	分
---	---

→20分後は

時	分
---	---

⑤



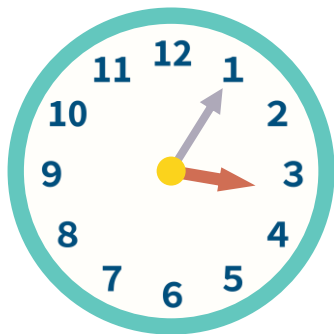
この時計は何時何分？

時	分
---	---

→30分前は

時	分
---	---

③



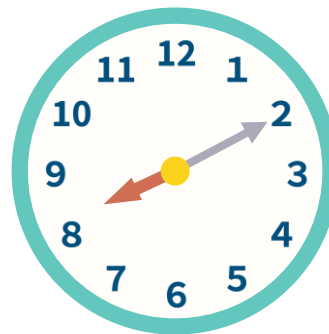
この時計は何時何分？

時	分
---	---

→30分前は

時	分
---	---

⑥



この時計は何時何分？

時	分
---	---

→40分前は

時	分
---	---