

# 時間の計算③

イラストを見て時間を計算しましょう！

※5分単位で計算してください

①



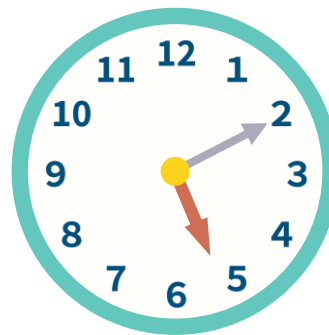
この時計は何時何分？

時	分
---	---

→25分前は

時	分
---	---

④



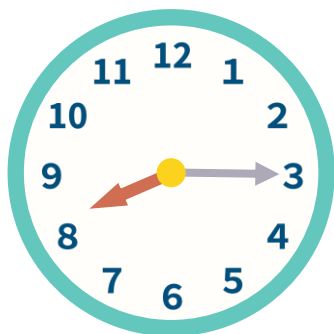
この時計は何時何分？

時	分
---	---

→20分前は

時	分
---	---

②



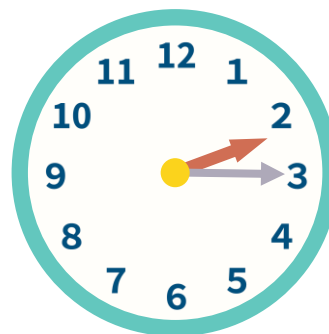
この時計は何時何分？

時	分
---	---

→35分後は

時	分
---	---

⑤



この時計は何時何分？

時	分
---	---

→20分前は

時	分
---	---

③



この時計は何時何分？

時	分
---	---

→10分前は

時	分
---	---

⑥



この時計は何時何分？

時	分
---	---

→30分後は

時	分
---	---