

時間の計算①

イラストを見て時間を計算しましょう！

※5分単位で計算してください

①



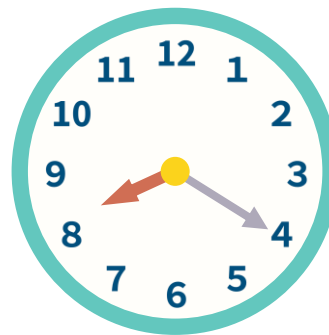
この時計は何時何分？

時 分

→10分後は

時 分

④



この時計は何時何分？

時 分

→15分前は

時 分

②



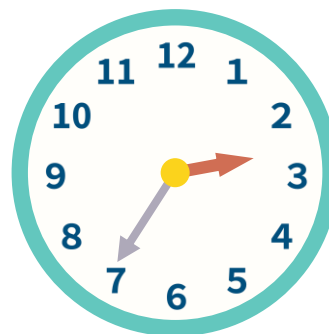
この時計は何時何分？

時 分

→15分後は

時 分

⑤



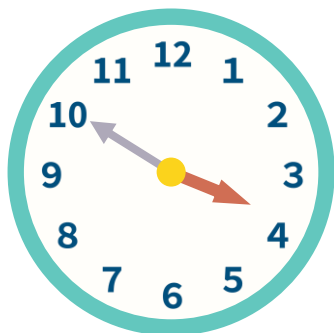
この時計は何時何分？

時 分

→20分後は

時 分

③



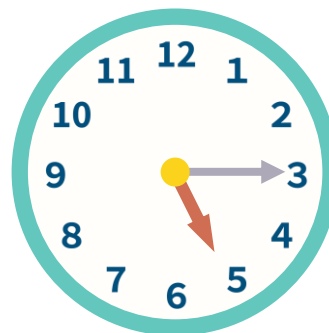
この時計は何時何分？

時 分

→10分前は

時 分

⑥



この時計は何時何分？

時 分

→15分後は

時 分